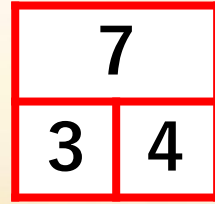


きょうおぼえること

7は3と4で
できている



■あわせると いくつ？



(しき)

3

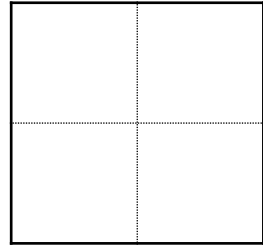
たす

+

4

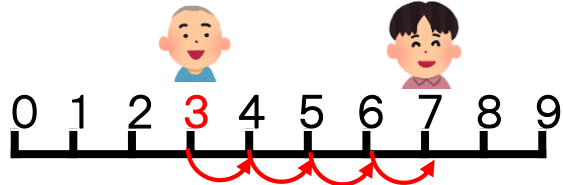
は

=



■ふえると いくつ？

ぼくは3さいです。
おにいちゃんは ぼくより
4さいおおきいです。
おにいちゃんは なんさい？



(しき)

3

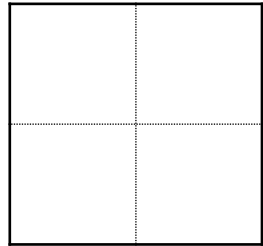
たす

+

4

は

=



■あいているところに すうじを かこう。

7

7

7

3

4

3

4

2