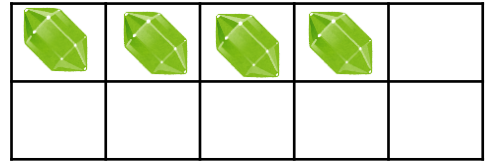
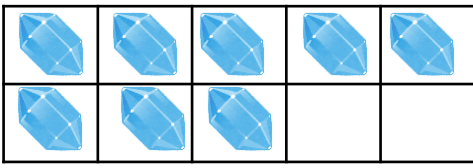
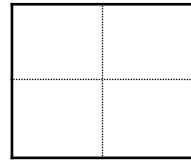




10より大きくなるたしざん

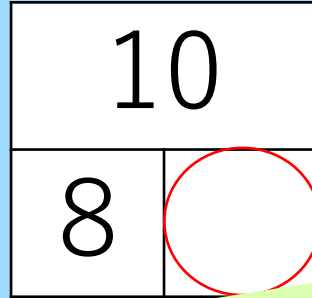
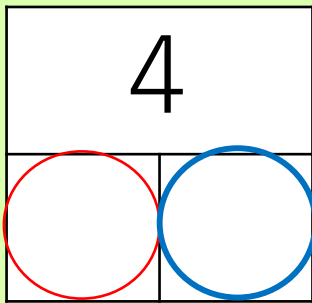
おお
大きいほうを 10 に するために
ひつような かずを 小さいほうから もらう

$$8 + 4 = \square$$



おれのほうが大きい！まかせろ！


おれが 10 になるために をちょうだい！



がんぷりブルーに あげたから のこりは だ



+



=

