




① 6人の子どもに、1人2枚ずつクッキーをくばるとぜんぶで何枚ひつよう？



\_\_\_\_\_

こたえ \_\_\_\_\_

② 12枚のクッキーがあります。3人でわけると1人何枚になりますか？

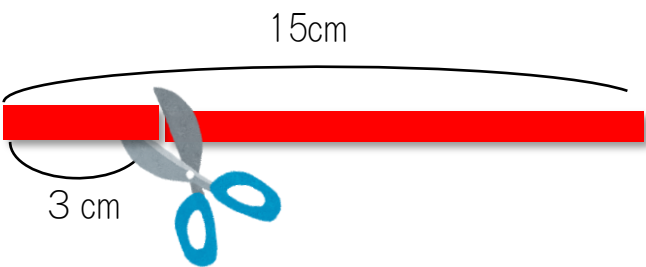


\_\_\_\_\_



こたえ \_\_\_\_\_

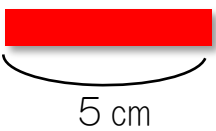
③ 15センチメートルのリボンがあります。1本あたり3センチメートルのながさで切ると、何本できますか？



\_\_\_\_\_

こたえ \_\_\_\_\_

④ リボンをつくるのに5センチメートルひつようです。3人ぶんのリボンをつくるのには、何センチメートルひつようですか？



\_\_\_\_\_



こたえ \_\_\_\_\_