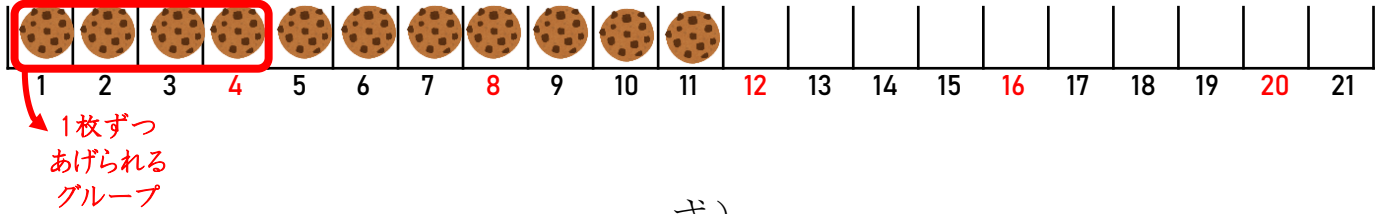





■ つぎの 計算を してみよう。

① クッキーが11枚あります。4人で分けると1人いくつ？




式)

② クッキーが12枚あります。4人で分けると1人いくつ？




式)

③ クッキーが13枚あります。4人で分けると1人いくつ？




式)

④ クッキーが14枚あります。4人で分けると1人いくつ？



式)

⑤ クッキーが15枚あります。4人で分けると1人いくつ？



式)