

ぼうけん がんぷり ちていへん

2 ちかのいずみ

スコップをいずみに おとしてしまった! けいせんもんだいをといて スコップを
とりもどすための じゆもんを てにいれる!

1) $50 + 20 =$

11) $13 - 5 =$

2) $8 + 6 =$

12) $19 - 3 =$

3) $15 + 3 =$

13) $14 - 7 =$

4) $7 + 8 =$

14) $12 - 6 =$

5) $30 + 7 =$

15) $15 - 8 =$

6) $2 + 7 =$

16) $18 - 2 =$

7) $8 + 9 =$

17) $13 - 6 =$

8) $16 + 3 =$

18) $18 - 9 =$

9) $\quad + \quad =$

19) $\quad - \quad =$

10) $\quad + \quad =$


20) $\quad - \quad =$

ぼ	う	け	ん	は	く	さ	い	っ	て
70	27	109	7	17	15	16	9	55	8



クリア!

じゆもんをとなえると いずみからめがみが あられ「あなたが
おとしたのは きんのスコップですか? きんのスコップですか?」
ときかれる。 ▶しょうじきにこたえる うそをつく



ぼうけん がんぷり ちていへん

2 ちかのいずみ

スコップをいずみに おとしてしまった! けいせんもんだいをといて スコップを
とりもどすための じゆもんを てにいれる!

$1) 6 \times 72 =$

$11) 560 \div 8 =$

$2) 32 \times 3 =$

$12) 62 \div 8 =$

$3) 4 \times 7 =$

$13) 55 \div 7 =$

$4) 30 \times 7 =$

$14) 206 \div 2 =$

$5) 8 \times 26 =$

$15) 70 \div 8 =$

$6) 84 \times 3 =$

$16) 41 \div 6 =$

$7) 9 \times 6 =$

$17) 1010 \div 5 =$

$8) 103 \times 6 =$

$18) 29 \div 3 =$

$9) \quad \times \quad =$

$19) \quad \div \quad =$


$10) \quad \times \quad =$

$20) \quad \div \quad =$

96	27	109	54	208	28	70	202	55	252
ほ	う	け	ん	は	く	さ	い	っ	て

クリア!

じゆもんをとなえると いずみからめがみが あられ「あなたが
おとしたのは きんのスコップですか? きんのスコップですか?」
ときかれる。 ▶しょうじきにこたえる うそをつく



ぼうけん がんぷり ちていへん

2 ちかのいずみ

スコップをいずみに おとしてしまった! けいさんもんだいをといて スコップを
とりもどすための じゆもんを てにいれる!

1) $50 + 20 =$

11) $13 - 5 =$

2) $8 + 6 =$

12) $19 - 3 =$

3) $15 + 3 =$

13) $14 - 7 =$

4) $7 + 8 =$

14) $12 - 6 =$

5) $30 + 7 =$

15) $15 - 8 =$

6) $2 + 7 =$

16) $18 - 2 =$

7) $8 + 9 =$

17) $13 - 6 =$

8) $16 + 3 =$

18) $18 - 9 =$

9) $\quad + \quad =$

19) $\quad - \quad =$

10) $\quad + \quad =$


20) $\quad - \quad =$

ぼ	う	け	ん	は	く	さ	い	っ	て
70	27	109	7	17	15	16	9	55	8



クリア!

じゆもんをとなえると いずみからめがみが あらわれ「あなたが
おとしたのは きんのスコップですか? ぎんのスコップですか?」
ときかれる。 ▶しょうじきにこたえる うそをつく



ぼうけん がんぷり ちていへん

2 ちかのいずみ

スコップをいずみに おとしてしまった! けいさんもんだいをといて スコップを
とりもどすための じゆもんを てにいれる!

$1) 6 \times 72 =$

$11) 560 \div 8 =$

$2) 32 \times 3 =$

$12) 62 \div 8 =$

$3) 4 \times 7 =$

$13) 55 \div 7 =$

$4) 30 \times 7 =$

$14) 206 \div 2 =$

$5) 8 \times 26 =$

$15) 70 \div 8 =$

$6) 84 \times 3 =$

$16) 41 \div 6 =$

$7) 9 \times 6 =$

$17) 1010 \div 5 =$

$8) 103 \times 6 =$

$18) 29 \div 3 =$

$9) \quad \times =$

$19) \quad \div =$

$10) \quad \times =$

$20) \quad \div =$

96	27	109	54	208	28	70	202	55	252
ほ	う	け	ん	は	く	さ	い	っ	て



クリアー!

じゆもんをとなえると いずみからめがみが あらわれ「あなたが
おとしたのは きんのスコップですか? ぎんのスコップですか?」
ときかれる。 ▶しょうじきにこたえる うそをつく

