

たからさがし ぼうけん がんぷり

2 かざんのしま

かざんのしまについた。けいせんもんだいを クリアして
かざんの あつせに たえるため こおりのたてをてにいれる！



1) $5 + 6 =$

11) $12 - 5 =$

2) $3 + 4 =$

12) $7 - 4 =$

3) $1 + 9 =$

13) $10 - 5 =$

4) $10 + 5 =$

14) $18 - 9 =$

5) $4 + 10 =$

15) $15 - 7 =$

6) $8 + 7 =$

16) $13 - 8 =$

7) $6 + 9 =$

17) $14 - 6 =$

8) $9 + 8 =$

18) $13 - 8 =$

9) $+ =$

19) $- =$

10) $+ =$

20) $- =$

クリアー！

こおりのたてを てにいれて ふじに かざんのしまを とおりぬけた。
さらに きんかを **4まい** てにいれた。つぎは コウモリどうくつのしまだ！

つぎの コウモリどうくつにそなえて コウモリのだいすきな
けつえきに にている トマトジュースをかう？ きんか **2まい**。



▶かう かわない

たからさがし ぼうけん がんぷり

2 かざんのしま

かざんのしまに ついた。けいせんもんだいを クリアして
かざんの あつせに たえるため こおりのたてを てにいれる！



- | | |
|----------------------------|--------------------------|
| 1) $10 \times 7 =$ | 11) $240 \div 6 =$ |
| 2) $4 \times 80 =$ | 12) $31 \div 4 =$ |
| 3) $3 \times 12 =$ | 13) $205 \div 5 =$ |
| 4) $70 \times 8 =$ | 14) $35 \div 7 =$ |
| 5) $6 \times 72 =$ | 15) $70 \div 8 =$ |
| 6) $3 \times 70 =$ | 16) $55 \div 7 =$ |
| 7) $23 \times 4 =$ | 17) $204 \div 2 =$ |
| 8) $55 \times 6 =$ | 18) $30 \div 4 =$ |
| 9) $\quad \times \quad =$ | 19) $\quad \div \quad =$ |
| 10) $\quad \times \quad =$ | 20) $\quad \div \quad =$ |

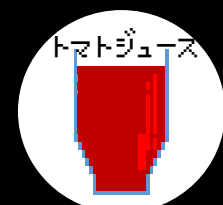
クリアー！

こおりのたてを てにいれて ふしに かざんのしまを とおりぬけた。
さらに きんかを **4まい** てにいれた。つぎは コウモリどうくつのしまだ！

つぎの コウモリどうくつにそなえて コウモリのだいすきな けつえきに
にている トマトジュースをかう？ きんか **2まい**。

▶ かう

かわない



たからさがし ぼうけん がんぷり

2 かぎんのしま

かぎんのしまについた。けいせんもんだいを クリアして
かぎんの あつさに たえるため こおりのたてをてにいれる！



1) $5 + 6 =$

11) $12 - 5 =$

2) $3 + 4 =$

12) $7 - 4 =$

3) $1 + 9 =$

13) $10 - 5 =$

4) $10 + 5 =$

14) $18 - 9 =$

5) $4 + 10 =$

15) $15 - 7 =$

6) $8 + 7 =$

16) $13 - 8 =$

7) $6 + 9 =$

17) $14 - 6 =$

8) $9 + 8 =$

18) $13 - 8 =$

9) $\quad + \quad =$

19) $\quad - \quad =$

10) $\quad + \quad =$

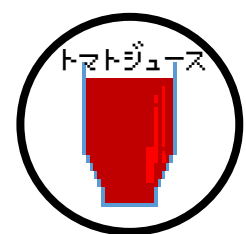
20) $\quad - \quad =$

クリアー！

こおりのたてを てにいれて ふじに かぎんのしまを とおりぬけた。
さらに きんかを **4まい** てにいれた。つぎは コウモリどうくつのしまだ！

つぎの コウモリどうくつにそなえて コウモリのだいすきな
けつえきに にている トマトジュースをかう？ きんか **2まい**。


▶かう かわない



たからさがし ぼうけん がんぷり

2 かざんのしま

かざんのしまに ついた。 けいせんもんだいを クリアして
かざんの あつさに たえるため こおりのたてを てにいれる!



- | | |
|----------------------------|--------------------------|
| 1) $10 \times 7 =$ | 11) $240 \div 6 =$ |
| 2) $4 \times 80 =$ | 12) $31 \div 4 =$ |
| 3) $3 \times 12 =$ | 13) $205 \div 5 =$ |
| 4) $70 \times 8 =$ | 14) $35 \div 7 =$ |
| 5) $6 \times 72 =$ | 15) $70 \div 8 =$ |
| 6) $3 \times 70 =$ | 16) $55 \div 7 =$ |
| 7) $23 \times 4 =$ | 17) $204 \div 2 =$ |
| 8) $55 \times 6 =$ | 18) $30 \div 4 =$ |
| 9) $\quad \times \quad =$ | 19) $\quad \div \quad =$ |
| 10) $\quad \times \quad =$ | 20) $\quad \div \quad =$ |

クリアー!

こおりのたてを てにいれて ふじに かざんのしまを とおりぬけた。
さらに きんかを **4まい** てにいれた。 つぎは コウモリどうくつのしまだ!

つぎの コウモリどうくつにそなえて コウモリのだいすきな けつえきに
にている トマトジュースをかう? きんか **2まい**。



▶ かう

かわない